

Tâche 1 : Prendre connaissance des informations


Avons-nous des traces qui viennent des Iroquoiens?

Faire une carte d'idées avec les enfants pour qu'ils ressortent les traces des Iroquoiens.

D'où viennent ces objets, ces pratiques et ces noms?

L'enseignante présente ces images aux enfants et leur demande de faire des liens avec les Iroquoiens en 1500 et aujourd'hui.

La chasse



Les Iroquoiens pratiquaient la chasse pour s'alimenter et pour confectionner des vêtements avec la peau des animaux. Ils partaient à la recherche d'animaux sauvages. Aujourd'hui, certaines personnes considèrent cette activité comme un loisir.

Les paniers en osier




Ils utilisent de l'écorce pour fabriquer des paniers en osier. Cela leur permet de ranger des choses. Ces paniers sont encore utilisés aujourd'hui.

L'agriculture



L'agriculture est la principale source d'alimentation chez les Iroquoiens. Grâce aux terres fertiles, ils peuvent cultiver. Encore de nos jours, nous cultivons pour avoir des légumes et des céréales.

Un ouaouaron



Le mot ouaouaron vient des Iroquoiens et signifie le nom d'une grenouille géante.

Le Canada



Le Canada est un nom d'origine iroquoise qui signifie village ou peuplement.

CAPSULE 2

Où vivaient les Iroquoiens vers 1500?


Quand les Européens sont arrivés en Amérique du Nord, vers 1500, le territoire était déjà habité par quelques millions de personnes.

Les Iroquoiens faisaient partie de ceux qui vivaient depuis très longtemps, des milliers d'années, en Amérique du Nord. On estime qu'il y avait de 100 000 à 150 000 Iroquoiens à cette époque.

Les Iroquoiens étaient divisés en cinq grands groupes : les Hurons-Wendat, les Iroquois, les Neutres, les Pétuns et les Ériés. Ils habitaient dans des villages, dont Hochelaga (aujourd'hui Montréal) et Stadaconé (aujourd'hui Québec).

Les Iroquoiens vivaient dans les basses-terres du Saint-Laurent et des Grands Lacs. Des basses-terres, ce sont généralement des plaines, c'est-à-dire de vastes étendues de terrains plats. Les basses-terres du Saint-Laurent et des Grands Lacs sont légèrement ondulées et comptent de nombreux cours d'eau. Elles ont un sol fertile. Un sol fertile est un sol où les plantes poussent bien.

Le territoire des Iroquoiens était entouré par le territoire des Algonquiens. Le territoire des Algonquiens était immense. Les Algonquiens comprenaient plusieurs groupes, par exemple les Micmacs, les Innus (ou Montagnais), les Algonquins et les Cris.



Présentation des cartes : le territoire des Iroquoiens vers 1500, Le Québec actuel.

La région colorée en mauve sur la carte I représente le territoire que les Iroquoiens occupaient vers 1500.

Carte I – Le territoire des Iroquoiens vers 1500.



Situe ton école sur une carte du Québec d'aujourd'hui. Si tu avais vécu à cet endroit vers 1500, aurais-tu vécu sur le territoire iroquoien ?

Carte 2 – Le Québec actuel.



Présenter la ligne du temps afin de montrer aux enfants les différents changements qui ont eu lieu entre les Iroquoiens de 1500 et aujourd'hui.

