

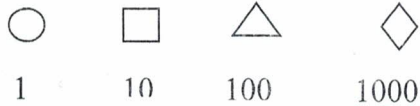
## Ce que je sais...

- ↳ Les informations de la légende et du tableau

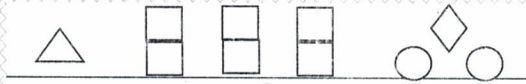
## Ce que je cherche...

- ↳ Trouver les 3 objets qui ont le plus de valeur

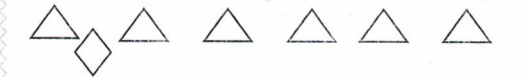
Légende :



Pièces d'or



Diamant




Collier



Couronne



Bague



Pièces d'or :

$$100 + 10 + 10 + 10 + 10 + 10 + 10 + 2 + 1000 = 1162$$

Diamant :

$$1000 + 6 \times 100 = 1600$$

Collier

$$100 + 8 = 108$$

Couronne :

$$100 + 20 + 6 = 126$$

Bague

$$6 + 30 + 1000 = 1036$$



**C'est essentiel  
d'y penser:**

- Bien lire la légende

Les 3 objets qui ont le plus de valeur sont :

1. Diamant
2. Pièces d'or
3. Bague